



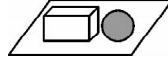



## 第四单元《观察物体》检测题(B卷)(西师版)



(时间:60 分钟 总分:100 分)

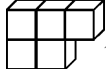



### 一、看一看。(每空 1 分,共 20 分)



1. 一次最多能看见长方体的( )个面。

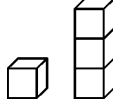



2.  从( )面看到的图形是 .

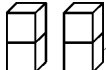



3.  从( )面看到的图形是 ; 从( )面看到的图形是 ; 从( )面看到的图形是 .

4.  从( )面和( )面看是完全相同的形状,从( )面看是 .

5.  从( )面看是 , 从( )面看是 , 从( )面看是 .




6.  从( )面和( )面看到的形状是完全相同的。从( )面看到的形状是 .

7.  从( )面看到的是 , 从( )面看到的是 , 从( )面看到的是 .

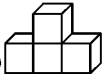


8.  从( )面看到 , 从( )面看到 , 从( )面看到 .

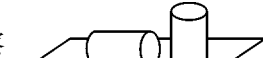
### 二、选择。(共 10 分)




1. 从正面观察 , 所看到的图形是( )。

①  ②  ③ 

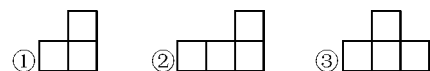
2. 下面( )立体图形从左面看,所看见的图形是 .




①  ②  ③ 

3. 从上面观察  所看到的图形是( )。

①  ②  ③ 

4. 从右面观察  所看到的图形是( )。



5. 一个由正方体组成的立体图形,从不同方向观察分别是  ,  ,  ,这

正面 左面 右面


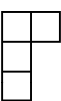


是由( )个正方体组成的立体模型。

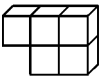


①4 ②6 ③9

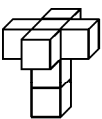

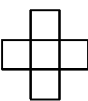

### 三、连一连。(共 28 分)

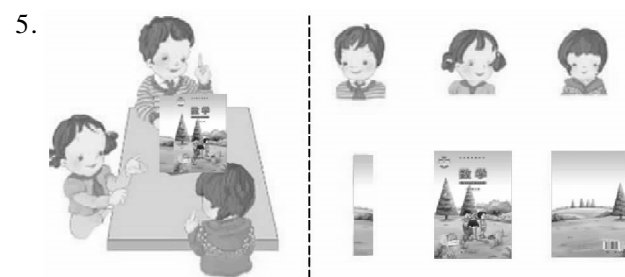
1. 右面这些照片是谁拍的?



2.  正面  侧面  上面 


3.  正面  侧面 

4.  正面  侧面  上面 

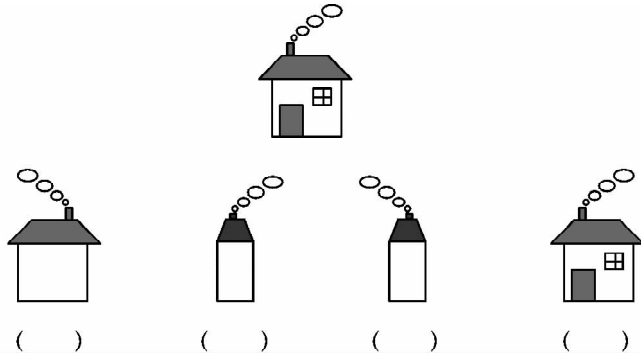


四、填一填。(共 24 分)


1. 请你在淘气看到的图下面画“○”,在笑笑看到的图片下面画“△”。

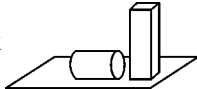


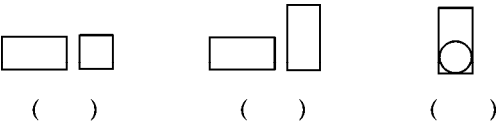
2. 请分别在括号里注明下面四张照片是从房子的哪一面拍的。



3. 下面是小红给一个物体从不同方向拍的照,观察是从什么方向拍的。

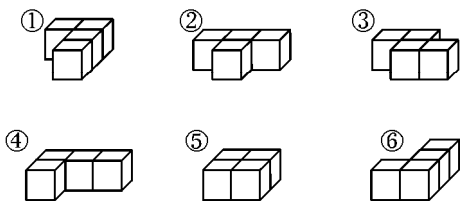






4. 从上面观察  所看到的图形是( ),请在正确的图形下方画“√”。



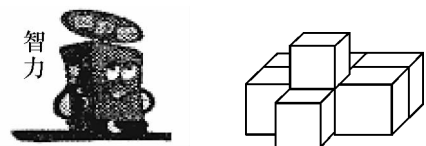
五、选一选。(每空 2 分,共 8 分)

小丽用同样大小的正方体搭出了下面的立体图形,根据要求,选择适当的序号填在下面的括号里。



- 1. 从正面看到的形状是  的立体图形有( )。
- 2. 从侧面看到的形状是  的立体图形有( )。
- 3. 从正面看到的形状是  的立体图形有( )。
- 4. 从侧面看到的形状是  的立体图形有( )。

六、智力冲浪。(共 10 分)



这个图形是由 8 个小正方体拼成的,如果把这个图形的表面涂上蓝色,那么,只有一面涂蓝色的有( )个小正方体;只有两个面涂蓝色的有( )个小正方体;只有 3 个面涂蓝色的有( )个小正方体;只有 4 个面涂蓝色的有( )个小正方体;只有 5 个面涂蓝色的有( )个小正方体。